

**Bài 1 :** Từ 3 chữ số 3, 5, 6. Em hãy viết tất cả các số có hai chữ số có thể đ-ợc

---

---

---

**Bài 2 :** Hãy viết các số có hai chữ số sao cho mỗi số chỉ có 1 chữ số 5

---

---

---

**Bài 3 :** Từ 3 số 4, 7, 9 em hãy viết tất cả các số có hai chữ số khác nhau ( □ mỗi số không có hai chữ số giống nhau )

---

---

---

**Bài 4 :** Số x có bao nhiêu chữ số biết

- a) x bé hơn 100
- b) x đứng liền sau một số có hai chữ số

---

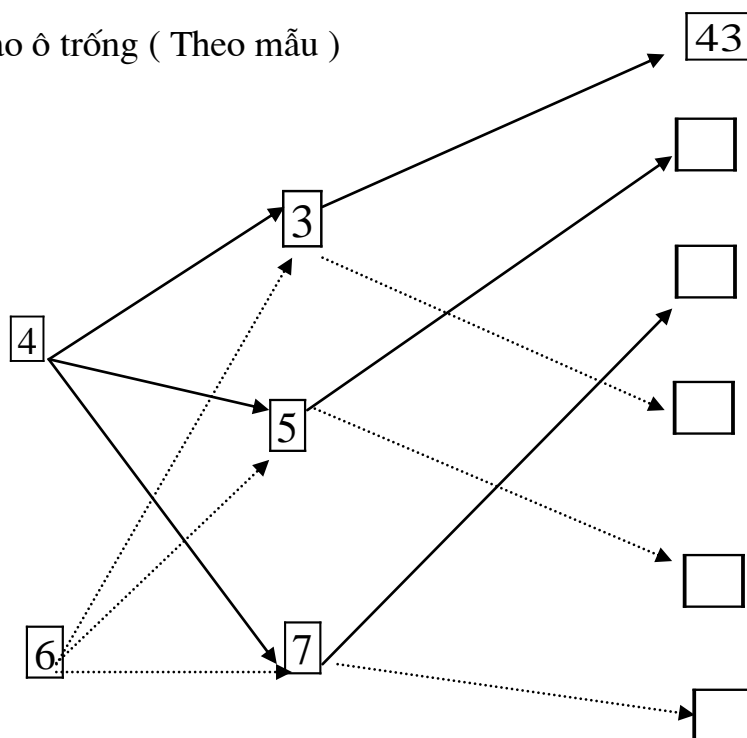
---

---

---

---

**Bài 5 :** Viết số thích hợp vào ô trống ( Theo mẫu )



**Bài 6 :** Tìm x biết

a)  $x + 12 = 46$

b)  $42 + x = 87$

c)  $x + 26 = 12 + 17$

d)  $34 + x = 86 - 21$

**Bài 7 : Tìm x biết**

a)  $x - 17 = 23$

b)  $x - 15 = 21 + 49$

c)  $x - 34 = 67 - 49$

**Bài 8 : Tìm x biết**

a)  $17 - x = 12$   
39

b)  $72 + 12 - x = 48$

c)  $28 + 26 - x = 67 -$

**Bài 9 : Tìm y biết**

a)  $y + 56 = 56 - y$

b)  $48 - y = 48 + y$

c)  $9 \times y = 7 \times y$

**Bài 10 : Điền dấu  $<$ ,  $>$ ,  $=$  thích hợp vào chỗ trống ( Với x khác 0 )**

a)  $x + 32 \dots\dots\dots 41 + x$

d)  $42 + 21 + x \dots\dots\dots 42 + 21$

b)  $56 - y \dots\dots\dots 45 - y$

g)  $52 - 47 \dots\dots\dots 52 - 47 - x$

c)  $x - 26 \dots\dots\dots x - 18$

h)  $29 + 42 - x \dots\dots\dots 42 + 29 + x$

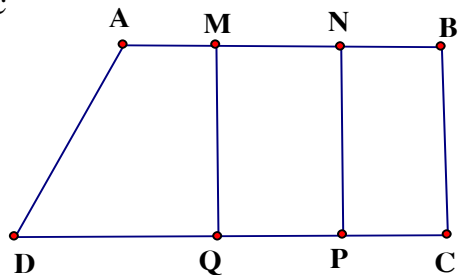
**Bài 11 :** Hình vẽ sau đây có bao nhiêu hình tứ giác , viết tên các hình tứ giác đó

.....

.....

.....

.....



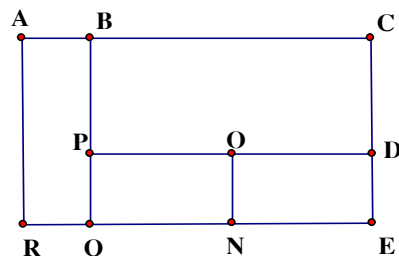
**Bài 12 :** Hình vẽ sau có bao nhiêu hình chữ nhật viết tên các hình chữ nhật đó

.....

.....

.....

.....



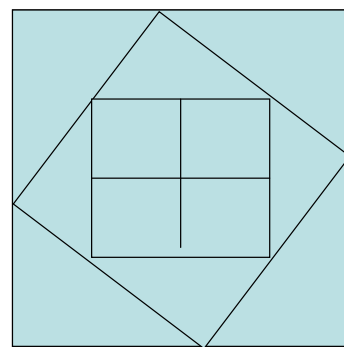
**Bài 13 :** Hình vẽ sau có bao nhiêu hình vuông , bao nhiêu hình tam giác

.....

.....

.....

.....



**Bài 14 :** Bao gạo thứ nhất nặng 26 kg , bao gạo thứ 2 nặng hơn bao gạo thứ nhất 15 kg . Hỏi cả hai bao gạo nặng bao nhiêu kg ?

.....

.....

.....

.....

.....

.....

**Bài 15 :** Thùng thứ nhất đựng 32 lít dầu , thùng thứ 2 đựng ít hơn thùng thứ nhất 9 lít dầu . Hỏi cả hai thùng đựng đ- ợc bao nhiêu lít dầu ?

.....

.....

.....

.....

**Bài 16 :** Một cửa hàng có 68 kg đ- ờng . Sau một ngày bán hàng còn lại 18 kg đ- ờng . Hỏi cửa hàng đã bán hết bao nhiêu kg đ- ờng ?

**Bài 17 :** Một cửa hàng bán đ- ợc 45 kg gạo trong ngày đầu , còn lại 28 gạo sau ngày thứ nhất . Sau ngày thứ hai còn lại 2 kg gạo . Hỏi lúc ban đầu cửa hàng có bao nhiêu kg gạo ? Cả hai ngày cửa hàng đã bán đ- ợc bao nhiêu kg gạo ?

**Bài 18 :** Có một cân đĩa và hai quả cân loại 1kg và 5 kg . Làm thế nào cân đ- ợc 4 kg gạo qua một lần cân ?

**Bài 19:** Thứ 5 tuần này là ngày 8 tháng 7 . Hỏi thứ 5 tuần tr- ớc là ngày nào ?

**Bài 20 :** Thứ sáu tuần này là ngày 16 tháng 9 . Hỏi thứ 7 tuần sau là ngày nào

**Bài 21 :** Hồng muốn biết sinh nhật của mình 15 tháng 6 là ngày thứ mấy .Bạn Mai lại cho biết ngày 7 tháng 6 là ngày thứ 3. Em hãy giúp bạn Hồng biết ngày sinh nhật của bạn là ngày thứ mấy ?

.....  
.....  
.....  
**Bài 22:** An có 12 viên bi . Bình có nhiều hơn An 9 viên bi . Chung có ít hơn Bình 6 viên bi . Hỏi cả ba bạn có bao nhiêu viên bi ?

.....  
.....  
.....  
.....  
.....  
.....

**Bài 23 :** Bạn An có 9 viên bi . Nếu An cho Bình 4 viên bi thì Bình có 10 viên bi . Hỏi cả hai bạn có bao nhiêu viên bi

.....  
.....  
.....  
.....  
.....  
.....

**Bài 24 :** Dũng có 1 số bi xanh và đỏ . Biết rằng số bi của Dũng ít hơn 10 viên . Trong đó số bi đỏ hơn số bi xanh 7 viên . Hỏi Dũng có bao nhiêu bi xanh , bao nhiêu bi đỏ?

.....  
.....  
.....  
.....  
.....

**Bài 25 :** Lan có 4 bìa xanh và đỏ , số bìa xanh ít hơn số bìa đỏ . Hỏi Lan có bao nhiêu tấm bìa xanh , bao nhiêu tấm bìa đỏ ?

.....  
.....  
.....  
.....

**Bài 26 :** Minh có 18 viên bi , nếu Minh cho Bình 3 viên thì Bình có nhiều hơn Minh 3 viên bi .  
Hỏi Bình có bao nhiêu viên bi ?

---



---



---



---

**Bài tập 27 :** Có ba thúng xoài , thúng thứ nhất ít hơn thúng thứ hai 6 quả , thúng thứ ba nhiều hơn thúng thứ hai 5 quả . biết thúng thứ nhất có 12 quả . Hỏi

- Thúng nào có nhiều xoài nhất ?
- Cả ba thúng có bao nhiêu quả xoài

---



---



---



---



---



---

**Bài 28 :** Hình vẽ sau đây có bao nhiêu đoạn thẳng , bao nhiêu tam giác , bao nhiêu tứ giác , kể tên các hình đó

---



---



---



---



---



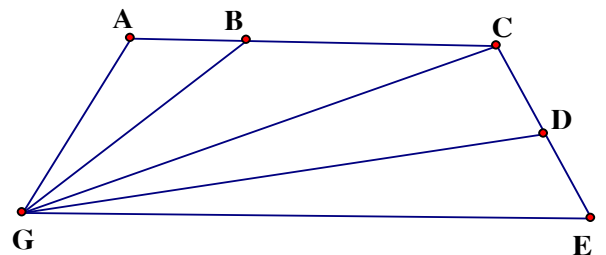
---



---



---



**Bài 29 :** Cho hình vẽ  
Chu vi tam giác ACE là :

---

Chu vi tam giác AED là :

---

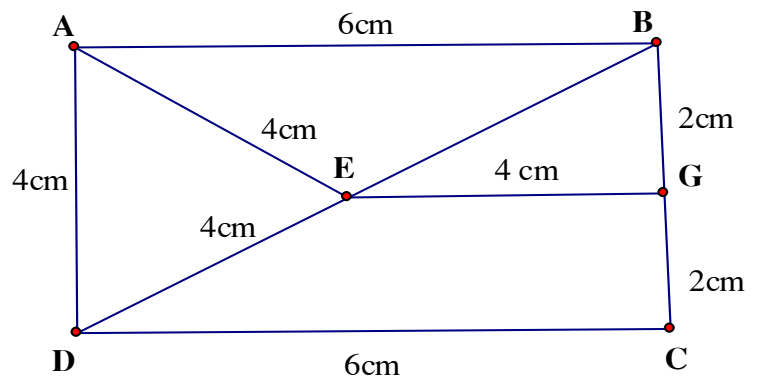
Chu vi tứ giác ABGE là :

---

Chu vi tứ giác DEGC là :

---

Độ dài đ- ờng gấp khúc ABCDEG là :



Độ dài đ-ờng gấp khúc AEDCGE là :

**Bài 30 :** Điền chữ số thích hợp vào chỗ trống

a) 
$$\begin{array}{r} \square 3 \\ - 5\square \\ \hline 27 \end{array}$$

b) 
$$\begin{array}{r} 8\square \\ - 28 \\ \hline \square 6 \end{array}$$

c) 
$$\begin{array}{r} 75 \\ - \square 9 \\ \hline 1\square \end{array}$$

**Bài 31 :** Điền các số vào ô trống sao cho có đủ các số từ 1 đến 9 sao cho tổng các số trong mỗi hàng , trong mỗi cột đều bằng 15

	9	
3	5	

**Bài 32 :**

Hình vẽ bên có ..... đoạn thẳng

Kể tên các đoạn thẳng :

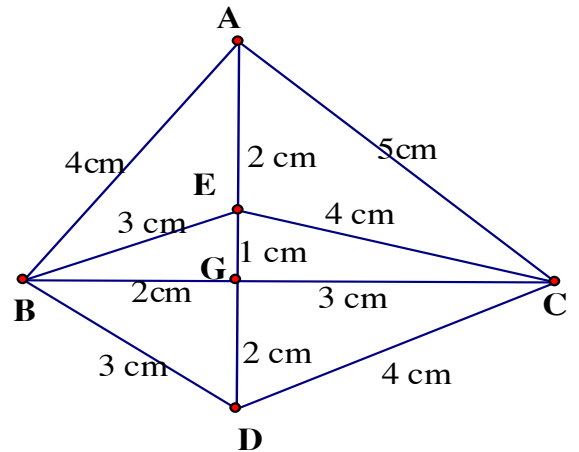
.....

.....

.....

.....

.....



Hình vẽ bên có .....hình tam giác

Tính chu vi mỗi tam giác

.....

.....

.....

.....

.....

.....

.....

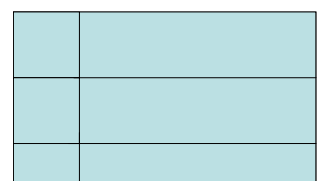
.....

.....

**Bài 33 :**

Hình vẽ d-ới đây có ..... tứ giác

Có .....hình chữ nhật



Có .....hình vuông

## *Toán bồi dưỡng học sinh năng khiếu tiểu học - lớp 2*

**Bài 1 :** Một cửa hàng ngày thứ nhất bán đ- ợc 66 gói kẹo , ngày thứ nhất bán hơn ngày thứ hai 14 gói kẹo . Hỏi ngày thứ hai cửa hàng bán đ- ợc bao nhiêu gói kẹo.

---

---

---

---

---

---

---

---

**Bài 2 :** Lan có nhiều hơn Huệ 8 bông hoa, Hồng có nhiều hơn Lan 4 bông hoa . Hỏi Hồng có nhiều hơn Huệ bao nhiêu bông hoa?

---

---

---

---

---

---

---

---

**Bài 3 :** Khánh có 18 quyển truyện . Nếu Khánh cho Hoà 2 quyển truyện thì Hoà có 19 quyển truyện . Hỏi Khánh và Hoà ai nhiều truyện hơn.

---

---

---

---

---

---

---

---

**Bài 4 :** Hộp thứ nhất có 78 viên kẹo , hộp thứ hai có ít hơn hộp thứ nhất 16 viên kẹo . Hỏi cả hai hộp có bao nhiêu viên kẹo?

---

---

---

---

---

---

---

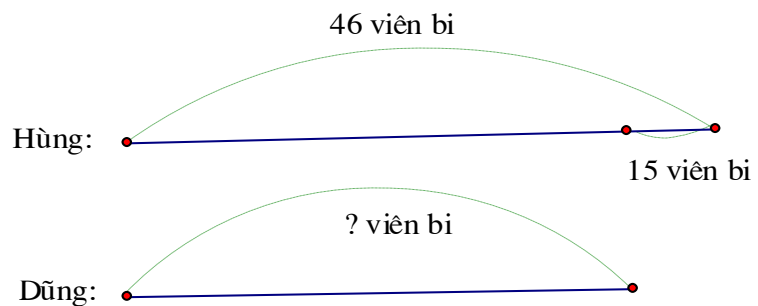
---



**Bài 5 :** Có hai đàn vịt , đàn vịt thứ nhất có 95 con , đàn vịt thứ nhất nhiều hơn đàn vịt thứ hai 32 con . Hỏi cả hai đàn vịt có bao nhiêu con?

**Bài 6 :** Đoạn thẳng MN dài 45 cm , đoạn thẳng PQ ngắn hơn đoạn thẳng MN 14 cm . Hỏi đoạn thẳng PQ dài bao nhiêu cm ?

**Bài 7 :** Đặt một đề toán sau rồi giải  
Tóm tắt :



**Bài 7 :** Một cửa hàng ngày thứ nhất bán đ- ợc 25 chiếc xe đạp , ngày thứ nhất bán ít hơn ngày thứ hai 8 chiếc xe đạp . Hỏi cả hai ngày cửa hàng bán đ- ợc bao nhiêu chiếc xe đạp?

**Bài 8 :** Nam có ít hơn Bảo 8 viên bi . Hùng cho Nam thêm 3 viên bi . Hỏi Bảo còn nhiều hơn Nam bao nhiêu viên bi?

**Bài 9 :** Hùng cân nặng 22 kg . Hoàng cân nặng 24 kg . Hậu cân nặng 23 kg . Hỏi

- a) Bạn nào cân nặng nhất ?
- b) Hùng và Hoàng cân nặng bao nhiêu kg?
- c) Cả ba bạn cân nặng bao nhiêu kg?

**Bài 10:** Có 1 cân đĩa , ng- ời ta đặt lên đĩa cân thứ nhất 3 kg , đĩa thứ hai đặt túi đ- ờng và quả cân 1 kg thì cân thăng bằng . Hỏi túi đ- ờng nặng bao nhiêu kg?

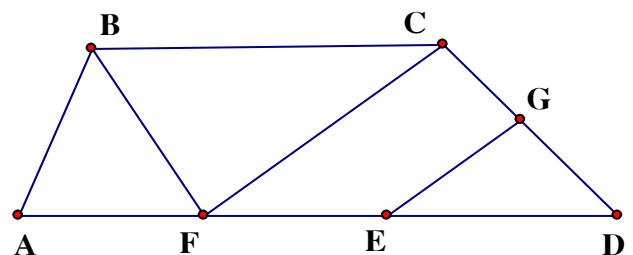
**Bài 11 :** Bao gạo và bao đ- ờng cân nặng 86 kg . Bao gạo cân nặng 42 kg . Hỏi bao nào nặng hơn và nặng hơn bao kia bao nhiêu kg?

**Bài 12 :** Một thùng n- ớc mắm có 36 lít . Sau khi rót ra bán thùng còn lại 12 lít . Hỏi số mắm đã bán đ- ọc và số mắm còn lại trong thùng số mắm nào nhiều hơn và nhiều hơn bao nhiêu?

**Bài 13 :** Tìm x biết

a)  $x + 26 = 48 + 52$       b)  $x - 12 = 15 + 37$       c)  $68 - x = 17 - 9$       d)  $15 + 56 - x = 56$

**Bài 14 :** Hình vẽ d- ới đây có bao nhiêu tam giác , bao nhiêu tứ giác ? Kể tên các tam giác , tứ giác đó

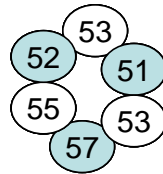


**Bài 15 :** Nối phép tính với các số thích hợp

$32 + 19$

$92 - 38$

$28 + 32$

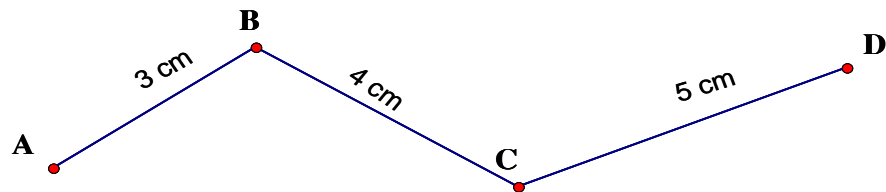


$71 - 48$

$44 + 8$

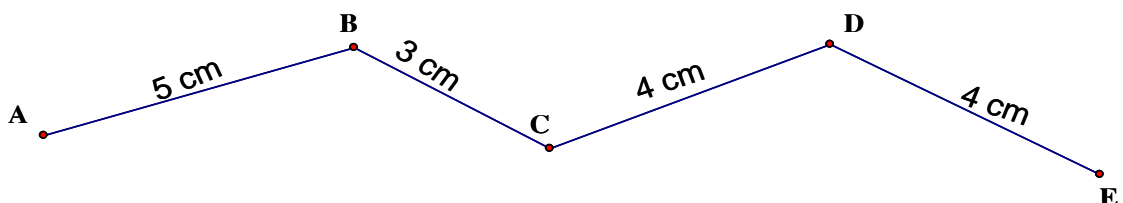
$80 - 25$

**Bài 16 :** Tính độ dài đ-ờng gấp khúc ABCD



**Bài 17:** Độ dài đ-ờng gấp khúc ABCD có tổng độ dài của hai đoạn thẳng AB và BC bằng 36 cm , đoạn thẳng CD dài 25 cm . Tính độ dài đ-ờng gấp khúc ABCD?

**Bài 18 :** Con kiến vàng bò từ A đến C , con kiến đen bò từ C đến E . Hỏi con kiến nào bò đ-ợc đoạn đ-ờng dài hơn?

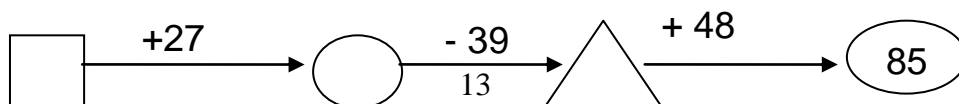
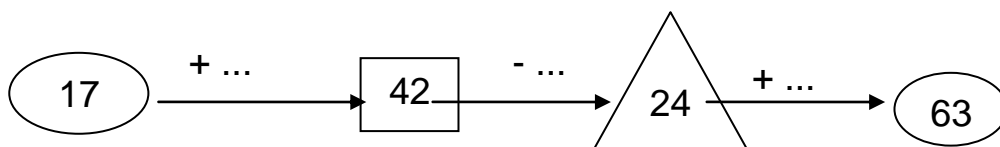
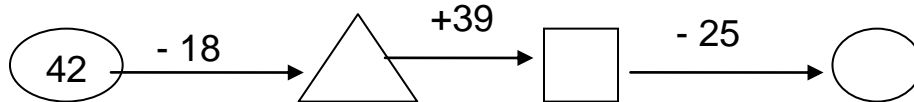


**Bài 19:** Hai đ- ờng gấp khúc ABC và MNP có độ dài bằng nhau, đoạn thẳng AB dài hơn đoạn thẳng MN . Hãy so sánh độ dài đoạn thẳng BC và đoạn thẳng NP .

**Bài 20 :** Tam giác ABC có cạnh AB dài 14 cm , cạnh BC dài 18 cm, cạnh CA dài 22 cm . Tính chu vi tam giác ABC .

**Bài 21:** Tính chu vi tứ giác MNPQ có độ dài các cạnh lần l- ợt là 15 cm, 2 dm3cm, 20 cm, 3 dm?

**Bài 23:** Điền số



## ÔN TẬP KỲ I - TOÁN LỚP 2

**Bài 1 : Tính**

$15 + 67 - 11 =$

$98 - 69 + 7 =$

$82 - 46 + 12 =$

$59 + 17 - 28 =$

**Bài 2 : Đặt tính và tính**

$15 + 7$   
 $34$

$57 + 29$

$87 - 29$

$56 - 47$

$46 + 54$

$100 -$

---

---

---

**Bài 3 : Tìm x biết :**

$x + 12 = 71$

$17 + x = 32$

$34 - x = 15$

$x - 34 = 15$

---

---

**Bài 4 :** Một cửa hàng ngày thứ nhất bán đ- ợc 25 thùng sữa , ngày thứ nhất bán ít hơn ngày thứ hai 8 thùng sữa .

Hỏi ngày thứ hai của hàng đó bán đ- ợc bao nhiêu thùng sữa?

Hỏi cả hai ngày cửa hàng bán đ- ợc bao nhiêu thùng sữa ?

---

---

---

---

---

---

---

---

**Bài 5 :** Trong hình vẽ bên :

Có .....đoạn thẳng

Đó là các đoạn thẳng

.....

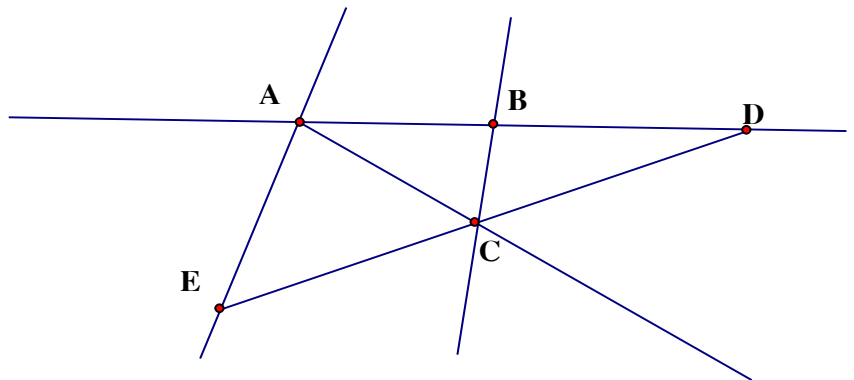
.....

.....

Có .....đ- ờng thẳng

Đó là các đ- ờng thẳng :.....

.....



Có ba điểm thẳng hàng là :.....

## TOÁN ÔN TẬP TUẦN 23

8.1.08

**Bài 1 :** Từ 4 chữ số : 0 ; 1 ; 2 ; 3 em hãy viết tất cả các số có hai chữ số khác nhau

**Bài 2 :** Cho số a có hai chữ số

- Nếu chữ số hàng chục bớt đi 2 thì số a giảm đi bao nhiêu đơn vị ?
- Nếu chữ số hàng chục tăng thêm 1 và chữ số hàng đơn vị giảm đi 2 thì số a tăng thêm bao nhiêu đơn vị ?

**Bài 3 :**

- Tìm những số lớn hơn 35 mà chữ số hàng chục của nó bé hơn 4
- Tìm những số có hai chữ số bé hơn 24 mà chữ số hàng đơn vị của nó lớn hơn 4

**Bài 4 :** Viết tất cả những số có hai chữ số mà tổng hai chữ số của nó bằng 12

**Bài 5 :** Viết tất cả những số có hai chữ số mà hiệu hai chữ số của nó 5

**Bài 6 :** Viết các số có hai chữ số biết tổng hai chữ số của nó bằng số lớn nhất có 1 chữ số và hiệu hai chữ số của nó bằng 3 .

**Bài 7 :** Hai số có hiệu bằng 14 , nếu thêm vào số trừ 3 đơn vị và giữ nguyên số bị trừ thì hiệu mới bằng bao nhiêu ?

---

---

---

**Bài 8 :** Tổng của hai số sẽ thay đổi nh- thế nào nếu mỗi số hạng cùng tăng thêm 25 đơn vị ?

---

---

---

**Bài 9 :** Tìm 1 số biết số lớn nhất có hai chữ số trừ đi số đó thì đ- ợc kết quả là 35 ?

---

---

---

**Bài 10 :** Số 45 thay đổi nh- thế nào nếu :

- a) Xoá bỏ chữ số 5
- b) Thay đổi vị trí chữ số 4 và chữ số 5
- c) Tăng chữ số hàng chục thêm 2

---

---

---

---

---

---

**Bài 11 :** Để đánh các trang của cuốn sách dày 15 trang cần dùng bao nhiêu chữ số để đánh

---

---

---

**Bài 12 :** Nga dùng 20 chữ số để viết các số liền nhau thành 1 dãy số  $0;1;2;3;\dots;a$  . Hỏi a là số nào ?

---

---

---

---

---

**Bài 13 :** Viết thêm 4 số vào dãy sau :

- a) 3 ; 6 ; 9 ; .....



b) 39 ; 35 ; 31 ; .....

**Bài 14 : Tìm x**

a)  $14 - x = 14 - 2$

b)  $52 + 4 > x + 52$

c)  $46 < x - 45 < 49$

d)  $x - 8 < 3$

**Bài 15 : Điền chữ số thích hợp vào hoa thị**

$$\begin{array}{r} *3 \\ + \\ 1 \\ *00 \end{array}$$

**Bài 16 : Tính nhanh**

a)  $11 + 28 + 24 + 16 + 12 + 9$

b)  $75 - 13 - 17 + 25$

.....  
.....  
.....  
**Bài 17 :** Ngày đầu cửa hàng bán đ- ợc 15 kg đ- ờng . Ngày sau bán hơn ngày đầu 5 kg đ- ờng .  
Cửa hàng còn lại 40 kg đ- ờng . Hỏi

- a) Ngày sau bán đ- ợc bao nhiêu kg đ- ờng
  - b) Tr- ớc khi bán cửa hàng có tất cả bao nhiêu kg đ- ờng
- .....  
.....  
.....  
.....  
.....  
.....  
.....  
.....  
.....  
.....  
.....  
.....  
.....  
.....  
.....

**Bài 18 :** Mai cao hơn Hoa 2 cm . Bình thấp hơn Mai 3 cm . Hỏi ai cao nhất ? Ai thấp nhất . Hoa cao hơn Bình mấy cm ?

.....  
.....  
.....  
.....  
.....  
.....  
.....  
.....  
.....  
.....  
.....  
.....  
.....  
.....  
.....

**Bài 19 :** Mẹ để hai đĩa cam bằng nhau trên bàn . Lan lấy 3 quả từ đĩa bên phải bỏ sang đĩa bên trái . Hỏi bây giờ đĩa bên nào nhiều cam hơn và nhiều hơn mấy quả cam?

.....  
.....  
.....  
.....

**Bài 20 :** Lan có 20 cái kẹo , Hà có 14 cái kẹo . Hỏi Lan phải cho Hà mấy cái kẹo để số kẹo hai bạn bằng nhau .

**Bài 21 :** Lan hơn Huệ 4 quyển vở . Huệ lại tặng Lan 3 quyển vở . Hỏi bây giờ ai nhiều vở hơn và nhiều hơn mấy quyển .

**Bài 22 :** Thu hơn Lan 7 nhãn vở . Lan lại cho Thu 5 nhãn vở . Hỏi bây giờ ai có nhiều nhãn vở hơn và nhiều hơn mấy nhãn vở .

18/3/2008

**Bài 1 :** Trong chuồng có cả gà và thỏ . Bạn Hoa đếm đ- ợc tất cả có 8 cái chân . Em hãy đoán xem trong chuồng có mấy con gà ? mấy con thỏ ?

**Bài 2 :** Từ can 10 lít dầu em muốn rót sang can 3 lít và can 2 lít . Hỏi có thể rót đầy đ- ợc mấy can 2 lít ? mấy can 3 lít ?

**Bài 3 :** Có 9 lít n- ớc mắm đựng vào các can loại 2 lít và 3 lít . Hỏi có bao nhiêu can 2 lít ? bao nhiêu can 3 lít ?

**Bài 4 :** Có 17 lít nước đựng trong các can 5 lít và 2 lít . Hỏi có mấy can 5 lít ? mấy can 2 lít ?

**Bài 5 :** Dũng có 1 số bi xanh và đỏ . Biết rằng số bi của Dũng bé hơn 10 . Số bi đỏ hơn số bi xanh là 7 viên . Hỏi Dũng có mấy bi xanh ? mấy bi đỏ ?

**Bài 6 :** Tổng số bút chì màu và đen của Lan bé hơn 9 . Số bút màu hơn số bút đen là 6 cái . Hỏi Lan có mấy bút đen ? mấy bút màu ?

18/3/08

## TOÁN

**Bài 1 :** Vừa gà vừa chó đếm đ-ợc 10 cái chân . Biết số gà nhiều hơn số chó . Hỏi có bao nhiêu gà ? Bao nhiêu con chó ?

---

---

---

---

---

**Bài 2 :** Có 13 lít dầu đựng vào các can 3 lít và 2 lít . Biết số can 3 lít nhiều hơn số can 2 lít . Hỏi có mấy can 2 lít ? Mấy can 3 lít ?

---

---

---

---

---

**Bài 3 :** Vừa gà vừa thỏ đếm đ-ợc 14 cái chân . Biết số thỏ nhiều hơn số gà . Hỏi có mấy con thỏ ? Mấy con gà ?

---

---

---

---

---

---

---

**Bài 4 :** Hoà câu đ-ợc tổng số cá ít hơn 11 , gồm cá rô và cá giếc . Số cá rô hơn cá giếc là 8 con . Hỏi có mấy con cá rô ? Mấy con cá giếc ?

---

---

---

---

---

.....  
.....  
**Bài 5 :** Lan câu đ- ọc tổng số cá ít hơn 12 , gồm cá trôi và cá rô . Số cá trôi hơn cá rô là 9 con .  
Hỏi có bao nhiêu con cá trôi ? bao nhiêu con cá rô ?

.....  
.....  
.....  
.....  
.....  
.....  
.....

**TIẾNG VIỆT**

**Bài 1 :** Viết câu trả lời 5 câu hỏi cuối bài : Chim sơn ca và bông cúc trắng vào vở .

.....  
.....  
.....  
.....  
.....  
.....  
.....  
.....

**Bài 2 :** Đọc nhiều lần bài : Về chim và trả lời miệng các câu hỏi cuối bài

18 / 3 / 08

## TOÁN

**Bài 1 :** Con ngỗng và con gà cộng lại bằng con ngan và con vịt cộng lại . Con ngỗng nặng bằng hai con vịt . Hỏi giữa con gà và con ngan con nào nặng hơn ? Có thể nói chắc chắn con ngan nặng bằng hai con gà không ?

---

---

---

---

---

---

---

---

---

---

**Bài 2 :** Cô giáo chấm bài toán của bốn bạn Hoà , Bình , Hải , Tú thì có hai điểm 10 , có một điểm 9 và một điểm 7 . Hoà đ- ợc điểm cao hơn Bình nh- ng lại thấp hơn Hải . Hỏi mỗi bạn đ- ợc mấy điểm ?

---

---

---

---

---

---

---

---

---

---

**Bài 3 :** Ba bạn đi câu cá . Trong giỏ câu đ- ợc 3 con cá rô và chùng ấy con cá giếc . Số cá trê ít hơn cá giếc nh- ng lại nhiều hơn cá quả . Hỏi ba bạn câu đ- ợc mấy con cá?

---

---

---

---

---

---

---

---

---

---



---

---

## TIẾNG VIỆT

**Bài 1 :** Tìm những tiếng có thể ghép với mỗi tiếng sau :

- riêng : .....
- giêng : .....
- dơi : .....
- rơi : .....
- dạ : .....
- ra : .....

**Bài 2 :** Tìm 6 từ chứa tiếng bắt đầu bằng r , d , gi ( mỗi tr- ờng hợp hai từ )

---

---

---

---

---

---

**Bài 3 :** Ngoài 5 thành ngữ nói về loài chim ở bài 2 tiết luyện từ và câu trang 36 . Em hãy tìm thêm 3 thành ngữ nữa cũng nói về các loài chim .

---

---

---

---

---

---

---

---

**Bài 1:** Có 9 lít dầu em muốn rót vào can 5 lít và can 2 lít. Hỏi em có thể rót đầy đ-ợc mấy can 5 lít và mấy can 2 lít ?

---

---

---

---

---

---

---

---

---

---

**Bài 2:** Cả gà và chó đếm đ-ợc 12 cái chân. Biết số gà nhiều hơn số chó. Hỏi có mấy con gà? Mấy con chó?

---

---

---

---

---

---

---

---

---

---

**Bài 3:** Lan có 1 số tờ giấy màu xanh và đỏ. Biết rằng tổng số giấy màu của lan bé hơn 13. Số giấy màu đỏ hơn giấy màu xanh là 10 tờ. Hỏi Lan có mấy tờ giấy màu xanh? Mấy tờ giấy màu đỏ?

---

---

---

---

---

---

---

---

---

---

**Bài 4:** Hà, Lan, Thu có 7 cái bút. Lan có nhiều hơn Hà nhưng ít hơn Thu. Hỏi mỗi bạn có mấy cái bút?

---

---

---

---

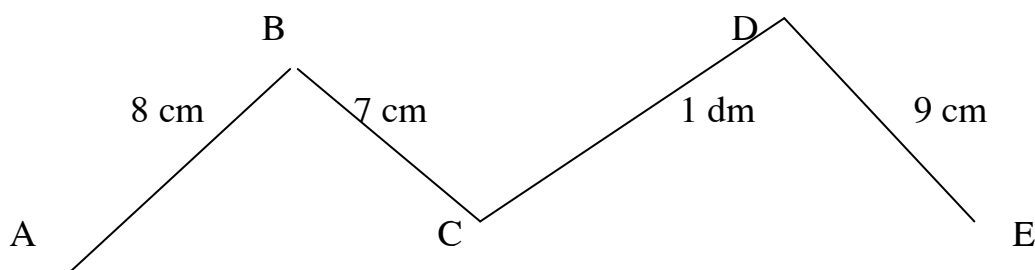
---

---

---

---

**Bài 5:** a. Tính độ dài đường gấp khúc ABCDE :



---

---

---

---

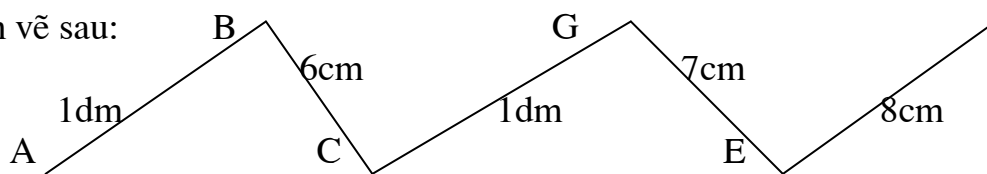
---

---

---

---

2. Cho hình vẽ sau:



a) Có mấy đường gấp khúc gồm 3 đoạn thẳng? Tính độ dài một trong các đường gấp khúc đó ?

---

---

---

---

---

---

---

---

b) Có mấy đường gấp khúc gồm 4 đoạn thẳng? Tính độ dài một trong các đường gấp khúc đó

---

---

---

---

---

---

---

---

Bài 1: Trong hộp có 5 bi xanh và 8 bi đỏ. An không nhìn vào hộp lấy ra 2 lần mỗi lần 4 viên. Hỏi có thể nói chắc chắn rằng trong số bi lấy ra đó có:

- a) Ít nhất 3 viên bi đỏ không?
- b) Ít nhất 1 viên bi xanh không?

Bài 2: Có 4 bóng xanh, 5 bóng đỏ, 6 bóng vàng. Lan không nhìn vào túi lấy ra 2 lần mỗi lần 5 quả. Hỏi trong số bóng lấy ra:

- a) Chắc chắn có 1 bóng vàng không?
- b) Chắc chắn có 1 bóng đỏ không?

Bài 3: Trong hộp có 4 bút màu đỏ, 6 bút màu xanh và 3 bút màu vàng. Bạn An lấy từ hộp ra 10 cái bút. Hỏi có thể nói chắc chắn rằng trong 10 cái bút An lấy ra:

- a) Có ít nhất 1 bút màu vàng không?
- b) Có ít nhất 1 bút màu đỏ không?

Bài 4: Bi xanh có 6 viên, bi đỏ có 9 viên, bi vàng có 4 viên. Tú không nhìn vào hộp lấy ra 12 viên bi. Hỏi có thể nói chắc chắn rằng trong 12 viên bi lấy ra đó:

- a) Có ít nhất 1 viên bi xanh không?
- b) Có ít nhất 1 viên bi đỏ không?
- c) Có ít nhất 1 viên bi vàng không?

Bài 5: Hà, Minh, Trang cùng đi hái hoa đ-ợc tất cả 38 bông. Số hoa của Hà và Minh hái đ-ợc là 28 bông. Số hoa của Minh và Trang hái đ-ợc là 29 bông. Tính số hoa của mỗi bạn hái đ-ợc?

Bài 6: Lan hơn Hà 4 tuổi, kém Thảo 3 tuổi. Hồng hơn Hà 6 tuổi. Hãy:

- a) So sánh số tuổi của Thảo và Hồng?
- b) So sánh số tuổi của Lan và Hồng?

Tiếng việt

Bài 1: Viết một đoạn văn từ 6 đến 8 câu kể về một loài chim mà em thích.

Bài 2: Đọc thật nhiều lần bài: Một trí khôn hơn trăm trí khôn.  
Trả lời miệng các câu hỏi cuối bài.

8 / 4 / 2008

## TOÁN

**Bài 1 :** Để đánh số thứ tự một cuốn sách từ trang 1 đến trang 13 cần dùng bao nhiêu chữ số để đánh ?

---

---

---

---

---

---

---

---

**Bài 2 :** Tìm x

a)  $17 + x - 25 = 36$

b)  $x + 12 < 12 + 4$

---

---

---

---

---

---

---

---

c)  $13 - 7 < x < 13 - 4$

---

---

---

---

---

---

---

---

**Bài 3 :** Con ngỗng cân nặng 10 kg . Con ngỗng cân nặng hơn con vịt 6 kg . Con gà cân nặng ít hơn con vịt 2 kg . Hỏi con ngỗng nặng hơn con gà mấy kg ?

---

---

---

---

---

---

---

---

---

---

**Bài 4 :** Lan có nhiều hơn Hồng 4 bông hoa . Để hai bạn có số hoa bằng nhau thì Lan phải cho Hồng mấy bông hoa ?

---

---

---

---

---

---

---

---

---

---

**Bài 5 :** Ba năm nữa tổng số tuổi của hai chị em là 24 tuổi . Hỏi tr-ớc đây 2 năm tổng số tuổi của hai chị em là bao nhiêu ?

---

---

---

---

---

---

---

---

---

---

**Bài 6 :** An có 15 quả bóng : xanh , đỏ , vàng . Hỏi có mấy quả bóng đỏ ? Mấy quả bóng vàng ? Biết số bóng xanh là 4 quả và bóng vàng nhiều hơn bóng xanh nh- ng ít hơn bóng đỏ .



27/2/2008

**Bài 1 :** Dũng có 2 loại bi xanh và đỏ . Hải có 3 loại bi xanh , vàng , tím . Hỏi cả 2 bạn có bao nhiêu loại bi khác màu và đó là loại màu gì ?

**Bài 2 :** Toàn có 1 số bi xanh và đỏ biết rằng số bi của Toàn bé hơn 10 . Bi đỏ hơn bi xanh là 7 . Hỏi Toàn có mấy bi xanh , mấy bi đỏ .

**Bài 3 :** Trong dịp tết trồng cây lớp của Lan trồng đ- ợc 50 cây . Lớp Tùng trồng ít hơn lớp Lan . Nếu lớp Lan cho lớp Tùng 10 cây thì số cây hai lớp bằng nhau . Hỏi lớp Tùng trồng đ- ợc mấy cây

**Bài 4 :** Nếu Toàn cho Tùng 12 hòn bi thì số bi của hai ng- ời bằng nhau và mỗi ng- ời có 24 viên bi . Hỏi tr- ớc khi cho thì Toàn có mấy viên bi ? Tùng có mấy viên bi ?

.....  
.....  
.....  
.....  
.....  
.....  
.....  
.....

**Bài 5 :** An , Ba , Cấn chạy thi với nhau . An không về cuối . Cấn không về đầu . Ba không về đầu và cũng không về cuối . Hỏi bạn nào về thứ nhất ? Bạn nào về thứ nhì ? Bạn nào về thứ 3 ?

.....  
.....  
.....  
.....  
.....  
.....  
.....  
.....

**Bài 6 :** Cộng mỗi số sau : 600 ; 811; 900; 550 ; 411 với 36 rồi lấy kết quả đó cộng với 64 . Có thể tìm nhanh kết quả cuối cùng không ?

.....  
.....  
.....  
.....  
.....  
.....  
.....  
.....

**Bài 7 :** Điền số thích hợp vào ô trống biết tổng các số trong 3 ô liên nhau bằng 20

9		5									
---	--	---	--	--	--	--	--	--	--	--	--

**Bài 8 :** Điền số thích hợp vào ô trống biết tổng các số trong 4 ô liên nhau bằng 78

20		40									
----	--	----	--	--	--	--	--	--	--	--	--

**Bài 9 :** Điền số thích hợp vào ô trống biết tổng các số trong 3 ô liền nhau bằng 500

150		80									
-----	--	----	--	--	--	--	--	--	--	--	--

**Bài 10 :**

a) Em hãy điền số còn lại vào ô trống của dãy số sau rồi nhận xét cách viết dãy số đó

12	24	48	
----	----	----	--

b)

2	6	18	
---	---	----	--

c)

	24	12	6
--	----	----	---

**Bài 11 :** Tính theo cách hợp lý

a)  $2 + 3 + 4 + 5 + 6 + 7 + 8 + 9 + 10 + 11 + 12 + 13$

b)  $8 \times 3 + 2 \times 8 + 4 \times 8$

**Bài 12 :**

a) Điền dấu “ + ; - ; x ; : ” vào ô trống để dãy số có kết quả đúng

$$3 \square 3 \square 33 \square 3 = 31$$

$$b) 7 \square 7 \square 7 = 7$$

**Bài 13 :** Em hãy nghĩ một số nào đó không lớn hơn 31 điền vào  $\square$  để kết quả đúng bằng 0 đ-ợc không ?

$$( \square + 2 ) \times 3 - 6 - \square \times 3 = 0$$

**Bài 14 :** Thứ năm tuần này là ngày 15 tháng 6 . Hỏi thứ năm tuần tr-ớc là ngày mấy ? Thứ năm tuần sau là ngày mấy ? Thứ 3 tuần tr-ớc là ngày mấy ? Thứ 7 tuần sau là ngày mấy ?

**Bài 15 :** Thứ 2 tuần này là ngày 4 . Hỏi thứ 7 tuần sau là ngày mấy ? Từ thứ 2 tuần này đến thứ 7 tuần sau có mấy ngày chẵn ? Mấy ngày lẻ ?

**Bài 16 :** Một bạn nói “Trong tuần này có 2 chủ nhật liên nhau đều là ngày chẵn ” . Bạn ấy nói đúng hay sai ? Vì sao ?

**Bài 17 :** Tay trái cầm 12 quả bóng . Tay phải cầm nhiều hơn tay trái 8 quả bóng . Hỏi phải chuyển từ tay phải sang tay trái mấy quả bóng để số bóng ở hai tay bằng nhau ?

**Bài 18 :** Nga có 8 cái kẹo . Nga có ít hơn Lan 4 cái kẹo . Hỏi Lan phải cho Nga mấy cái kẹo để số kẹo hai bạn bằng nhau?

**Bài 19 :** Lan hái đ-ợc 6 bông hoa . Hà hái đ-ợc 10 bông hoa . Hỏi Hà phải cho Lan mấy bông hoa để số hoa 2 bạn bằng nhau ?

**Bài 20 :** Mẹ để 2 gói kẹo có số kẹo bằng nhau lên bàn . An lấy 4 cái từ gói này bỏ sang gói kia . Hỏi bây giờ gói nào nhiều kẹo hơn và nhiều hơn mấy cái kẹo ?

**Bài 21 :** Thảo , Thuỷ , Trang có 14 cái kẹo . Thảo có số kẹo nhiều nhất . Trang có số kẹo ít nhất còn Thuỷ có 6 cái . Hỏi mỗi bạn Thảo , Trang có mấy cái kẹo ?

**Đề 1:**

1) Tính:

$$\begin{array}{r} 536 \\ + 342 \\ \hline \dots\dots \end{array} \quad \begin{array}{r} 490 \\ + 250 \\ \hline \dots\dots \end{array} \quad \begin{array}{r} 490 \\ + 413 \\ \hline \dots\dots \end{array} \quad \begin{array}{r} 278 \\ + 161 \\ \hline \dots\dots \end{array}$$

Họ và tên :.....
Lớp : 2 D
Điểm :                      Chữ ký phụ huynh:

2) Tìm x :

a)  $x + 39 + 19 = 87 + 9$

b)  $x - 26 = 75 - 17$

3) Viết số tự nhiên liên tiếp vào chỗ chấm:

- a) 698 < ..... < ..... < .....
- b) ..... < ..... < ..... < 790
- c) 699 < ..... < ..... < .....

4) Điền dấu > , < =

712 ..... 698	690 + 10 ..... 700
612 ..... 608	695 ..... 691
599 + 1 ..... 600	302 ..... 301


5) Số cây cam trong v- ườn có 568 cây và ít hơn số cây b- ưởi là 165 cây. Hỏi số cây b- ưởi có bao nhiêu cây.

6) Hình vẽ bên có :



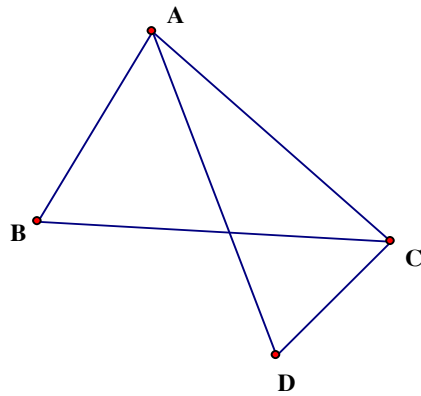
hình chữ nhật

? ghi tên các hình đó



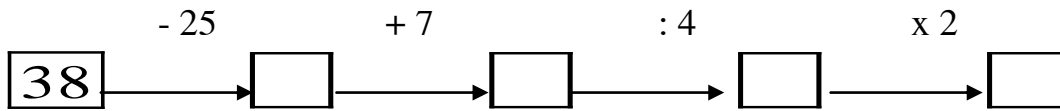
**Đề 2:**

1) Hình vẽ bên có :  
 hình tam giác  
? ghi tên hình đó

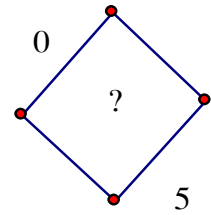
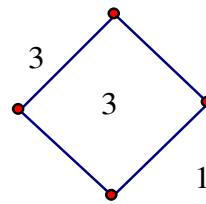
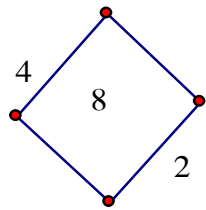


Họ và tên :.....
Lớp : 2 D
Điểm :                      Chữ ký phụ huynh:

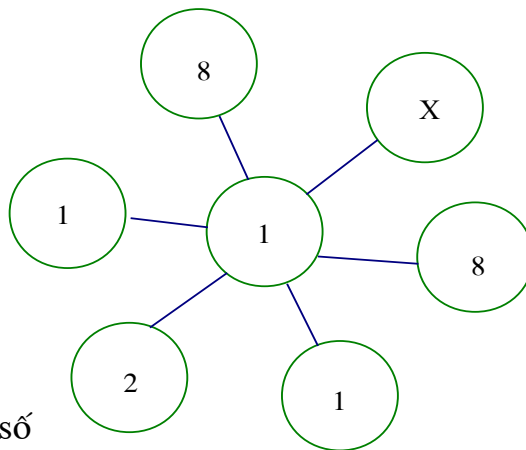
2) Điền số thích hợp vào



3) Điền số nào ?



4) Tìm x



5) a) Viết số liền sau của số bé nhất có 3 chữ số

b) Số liền tr-ớc của số lớn nhất có 3 chữ số

6) An cao 1 m 59 cm và cao hơn Bình 24 cm . Hỏi Bình cao bao nhiêu xăng - ti - mét ?

**ĐỀ 3:**

Họ và tên :.....Lớp 2 D

Điểm : .....

1) Tìm x :

a)  $x + 112 + 143 = 999 - 102$

b)  $x - 123 = 400 + 56$

c)  $962 - x = 869 - 28$

d)  $45 + 47 - x = 59 + 9$

2) Đặt tính rồi tính:

$916 - 302$

$789 - 456$

$589 - 506$

$974 - 452$

3) Viết thêm các số liền sau hoặc liền tr-ớc để đ-ợc:

a) 5 số tự nhiên liên tiếp: 98 ; 99 ; ..... ; ..... ; .....

b) 5 số lẻ liên tiếp : 195 ; 197 ; ..... ; ..... ; .....

c) 5 số chẵn liên tiếp : ..... ; ..... ; ..... ; 498 ; 500

d) 5 số tròn chục liên tiếp : ..... ; ..... ; ..... ; 970 ; 980

e) 5 số tròn trăm liên tiếp : ..... ; ..... ; 500 ; ..... ; .....

4) Một cửa hàng, buổi sáng bán đ-ợc 279 kg cam và bán đ-ợc nhiều hơn buổi chiều 125 kg cam. Hỏi buổi chiều bán đ-ợc bao nhiêu ki lô gam cam.

5) Quầy hàng hôm nay bán đ-ợc 193 lít dầu và bán đ-ợc ít hơn hôm qua 15 lít. Hỏi hôm qua quầy đó bán đ-ợc bao nhiêu lít dầu.



**ĐỀ 4:**

Họ và tên :.....Lớp : 2 D

Điểm : .....

1) Tính bằng cách hợp lý (theo mẫu)

$$\begin{aligned} \text{a) } 145 + 53 - 45 \\ = 145 - 45 + 53 \\ = 100 + 53 \\ = 153 \end{aligned}$$

$$\begin{aligned} \text{b) } 139 + 27 - 39 \\ = ..... \\ = ..... \\ = ..... \end{aligned}$$

$$\begin{aligned} \text{c) } 789 + 111 - 89 \\ = ..... \\ = ..... \\ = ..... \end{aligned}$$

$$\begin{aligned} \text{d) } 6 \times 5 : 2 \\ = 6 : 2 \times 5 \\ = 3 \times 5 \\ = 15 \end{aligned}$$

$$\begin{aligned} 9 \times 5 : 3 \\ = ..... \\ = ..... \\ = ..... \end{aligned}$$

$$\begin{aligned} 4 \times 8 : 2 \\ = ..... \\ = ..... \\ = ..... \end{aligned}$$

2) Ông cao 163 cm . Ông thấp hơn bố 12 cm . Hỏi bố cao bao nhiêu xăng ti mét ?

.....

.....

.....

.....

3) Thùng to đựng 85 lít và nhiều hơn thùng nhỏ 13 lít . Hỏi thùng nhỏ có bao nhiêu lít dầu ?

.....

.....

.....

.....

4) Tính ?

$$\begin{array}{r} 45 \\ + 39 \\ \hline \end{array}$$

$$\begin{array}{r} 84 \\ - 45 \\ \hline \end{array}$$

$$\begin{array}{r} 84 \\ - 39 \\ \hline \end{array}$$

$$\begin{array}{r} 234 \\ + 245 \\ \hline \end{array}$$

$$\begin{array}{r} 574 \\ + 234 \\ \hline \end{array}$$

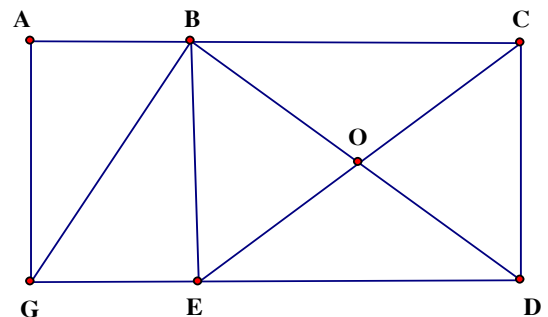
$$\begin{array}{r} 579 \\ - 345 \\ \hline \end{array}$$

5) Hình bên có :

hình tam giác

Ghi tên các hình đó : .....

.....



.....

**Đề 5 :**

Họ và tên :.....	
Lớp : 2 D	
Điểm :	Chữ ký phụ huynh:

1) Viết 4 phép tính thích hợp với 3 số

a) 4 , 3 , 7

b) 4 , 3 , 12

.....

.....

.....

2) Tìm x

a)  $100 - x = 5 \times 9$

b)  $5 \times 7 + x = 100$

c)  $x : 4 = 78 : 3$

.....

.....

.....

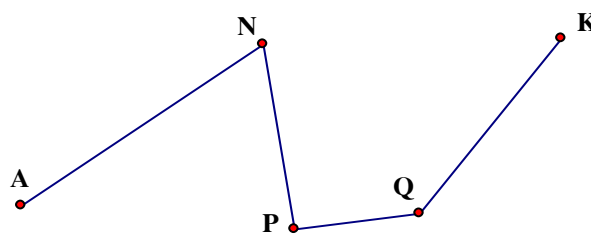
3) Độ dài đường gấp khúc là

A . 60 cm

B . 65 cm

C . 90 cm

D . 81 cm



4) Tính chu vi của hình chữ nhật biết chiều

dài 16 cm , chiều rộng ngắn hơn chiều dài 5 cm ?

.....

.....

.....

.....

5) Tính chu vi hình tam giác biết 3 cạnh của tam giác đó bằng nhau và bằng 15 cm

.....

.....

.....

---

---

**Đề thi toán tuổi thơ 2**  
**Bài 1**